



SALA DE RECURSOS MULTIFUNCIONAL

ESCOLA MUNICIPAL PROFESSOR SEBASTIÃO FELTRIN

PROFESSORA: CINTIA RODRIGUES BENICIO

TURMA: B

ÁREAS TRABALHADAS:ÁREA DA LINGUAGEM,ÁREA DA MATEMÁTICA E ÁREA EMOCIONAL.

DATA DA REALIZAÇÃO: DE 21 A 25 DE JUNHO.

ALUNO (A): _____ TURMA: 5º ANO



Senhores Pais e Responsáveis

Vocês estão recebendo as **ATIVIDADES COMPLEMENTARES DE ESTUDO PARA O PERÍODO DE ISOLAMENTO – COVID 19, referente a semana de 21 A 25 DE JUNHO de 2021.** Contamos com sua participação para que todas essas atividades sejam realizadas pelo seu filho.

No roteiro a seguir estão as atividades e todas as orientações para sua execução. Tudo está descrito de forma simples. Qualquer dúvida estaremos a disposição no WhatsApp.

Abraços Professora Cintia.


VÍDEO OU ÁUDIO DA EXPLICAÇÃO DA PROFª.	ASSISTA AO VÍDEO/ÁUDIO EXPLICATIVO DA PROFESSORA.
O QUE VAI ESTUDAR?	Área da matemática: raciocínio lógico matemático, cálculos de adição subtração, leitura e interpretação. Área da linguagem: antecipação de leitura, ordenação do pensamento, sequência de fatos a vista de gravura, escrita de texto. área cognitiva: percepção visual, orientação espacial, coordenação visomotora.
PARA QUÊ VAMOS ESTUDAR ESSES CONTEÚDOS?	Valorizar a leitura como fonte de conhecimento. Aprimorar as habilidades de percepção das linguagens

	<p>envolvidas na leitura.</p> <p>Ler,interpretar e ampliar vocabulário.</p> <p>Perceber a presença da matemática em tudo que fizermos.</p> <p>Trabalhar o sistema numérico.</p> <p>Trabalhar resolução de situação problema.</p> <p>Identificar informações com excessos de dados,interpretação .</p> <p>Identificar diferenças pela visão.aperfeiçoar o sentido.</p> <p>Trabalhar capacidades de compreensão</p>
COMO VAMOS ESTUDAR ESSES CONTEÚDOS	As atividades propostas devem ser realizadas nos roteiros impressos. Organize um ambiente tranquilo e fique atento as explicações dadas pela professora no whatsapp.
COMO VAMOS REGISTRAR O QUE APRENDEMOS?	Buscando as atividades impressas na escola.lendo e preenchendo de acordo com as orientações as atividades enviadas completamente,sem deixar nada em branco ou incompleto. Ouvindo atentamente as explicações que a professora envia pelo whatsapp e chamando quando não entender ou conseguir fazer as atividades.devolvendo as atividades semanalmente para que a professora faça as correções necessárias.

ATENÇÃO: Qualquer dúvida estou a disposição por whatsapp das 13h as 17h.

ÁREA DA LINGUAGEM

1-OBSERVE A CENA E DESENHE O QUE ACONTECEU ANTES E O QUE ACONTECEU DEPOIS.



ÁREA DA MATEMÁTICA

Resolva as situações problemas.

1-Jorge tem 243 figurinhas e seu primo Carlos tem 125.Quantas figurinhas eles tem ao todo?

C	D	U

Resposta _____

2-Uma costureira fez 352 saias e 263 blusas.Quantas peças de roupa ela fez no total?

C	D	U

Resposta _____

3-Um sorveteiro saiu de casa com 465 picolés em seu carrinho.Durante o dia ele vendeu 334 picolés.Quantos picolés ele ainda tem?

C	D	U

Resposta_____

4-João plantou em seu sitio 178 pés de alface.Depois de um temporal 142 não cresceram.Quantos pés de alface estão prontos para vender?

C	D	U

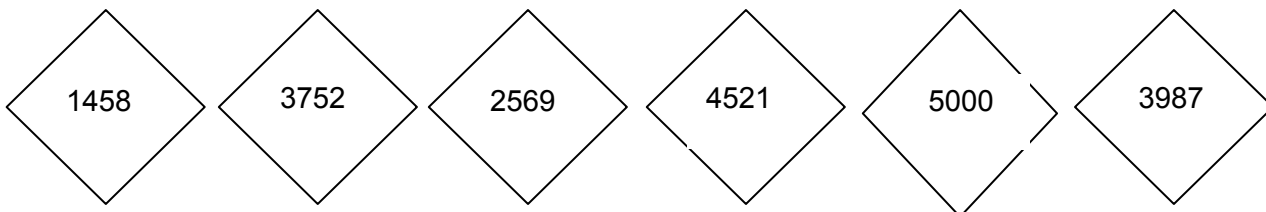
Resposta_____

5-Se uma bicicleta pode ser comprada parcelada em 2 vezes de 210,00 reais.Quanto custa a bicicleta?

C	D	U



Resposta _____

Escreva por extenso os números dos balões.



ÁREA PSICOMOTORA

1-PROCURE AS FIGURAS E DIGA QUANTAS TÊM.



2-COPIE AS FIGURAS IGUAIS AO MODELO.

